

SEVİMLİ AFACANLAR MATEMATİK ÖĞRENİYOR

4-5
YAŞ



SEVİMLİ AFAÇANLAR MATEMATİK ÖĞRENIYOR

YAZAN: Ziya Sıcak

RESİMLEYEN: Gülinaz Şafak - Ayşegül Coşkun

EDİTÖR: Ziya Sıcak

GRAFİK: Gülinaz Şafak - Ayşegül Coşkun

BASIM YERİ: Aktif Matbaacılık

BASIM YILI: 2011

ISBN:

Fikir ve Sanat Eserleri Yasası gereğince bu eserin yayın hakkı anlaşmalı olarak Çocuk Kalbi Yayınları'na aittir. İzinsiz, kısmen ya da tamamen çoğaltıp yayımlanamaz.



Merkez Mahallesi (Yeni bosna) Yılanlı Tepe Sokak
No: 3 Bahçelievler/ İstanbul
Tel: 0 (212) 654 26 00
Fax: 0 (212) 654 26 00




- Resimdeki kelebekleri sayalım.
- Resimdeki çiçekleri sayalım.
- Her kelebeği örnekteki gibi çizgi çizerek birleştirelim.




- ✿ Resimdeki bulutları sayalım.
- ✿ Resimdeki çiçekleri sayalım.
- ✿ Her bulutu örnekteki gibi çizgi çizerek birleştirelim.







- * Sincapları sayalım.
- * Cevizleri sayalım.
- * Her sincabı bir cevizle birleřtirerek eřleřtirelim.



- ❖ Kutucuklardaki hayvanları sayalım.
- ❖ Örnekte olduğu gibi hayvanların sayısı kadar çizgiyi, kutucuklara çizelim.



✿ Anları çiçeklere götüreceğ yolu örnekte olduğu gibi çizgi çizerek gösterelim.




- ✿ Dairelerin içindeki limon adamları sayalım.
- ✿ Altındaki kutucuklara, örnekte olduğu gibi limon adamların sayısı kadar çizgi çizelim.




✿ Yıldızları sayalım.

✿ Boyalı olmayan çadırları dilediğimiz renge boyayalım.



- ✿ Yuvadaki kuşları sayalım.
- ✿ En fazla kuşun bulunduğu yuvanın altındaki daireyi boyayalım.
- ✿ En az kuşun bulunduğu yuvanın altındaki daireye (X) çarpı işareti çizelim.



- ❖ Resimdeki göçmen kuşları sayalım.
- ❖ Boyalı olmayan kuşları dilediğimiz renge boyayalım.




- ✿ Resimde kaç kuş var? Söyleyelim.
- ✿ Resimdeki rakamın kaç olduğunu söyleyelim.
- ✿ Noktaları birleştirerek 1 rakamını oluşturalım.




Üstteki sayının kaç olduğunu söyleyelim.



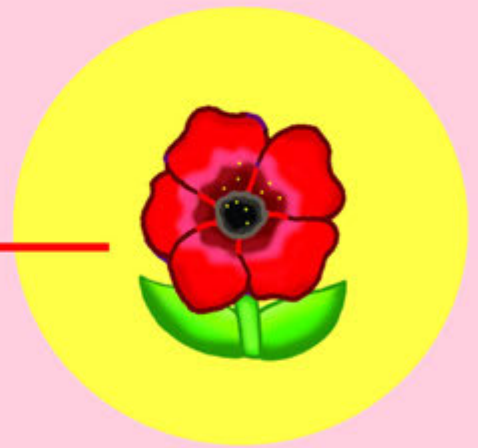

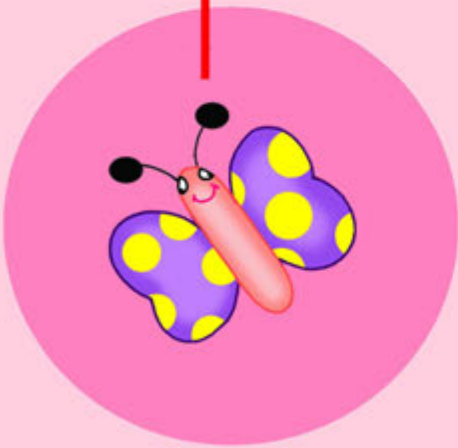

Noktaları birleştirerek 1 rakamlarını oluşturalım.




Resimde kaç elma var söyleyelim. Elma sayısını yandaki kutuda bulup daire (O) içine alalım.



1



- Ortadaki sayının kaç olduğunu söyleyelim.
- 1 sayısını dilediğimiz renge boyayalım.
- Kutucuklardaki varlıkları sayalım, sayısını dairelerin içine yazalım.



- Resimde kaç kuş var? Söyleyelim.
- Noktaları birleştirerek 2 rakamını oluşturalım.